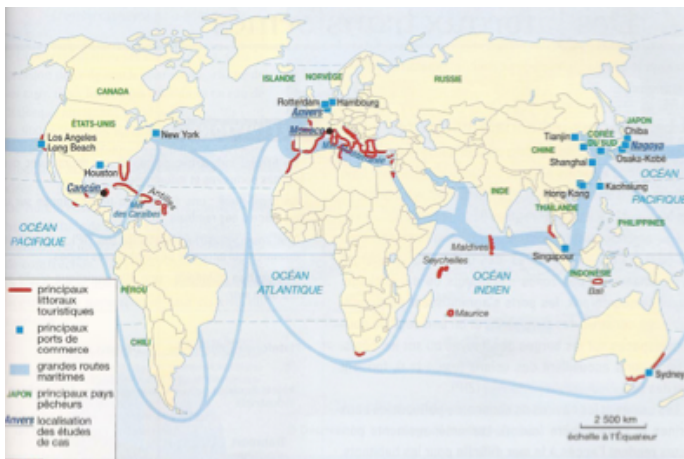
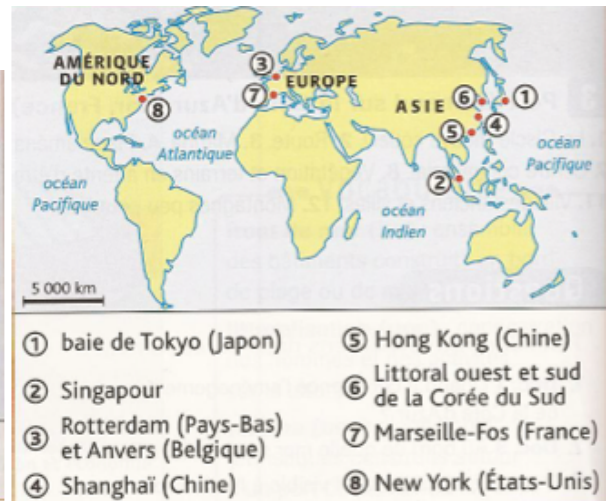


Les littoraux, des espaces attractifs à l'échelle du Monde : carte page 276.



1/ Donne **trois activités** qui attirent les **Hommes** sur les littoraux.

.....

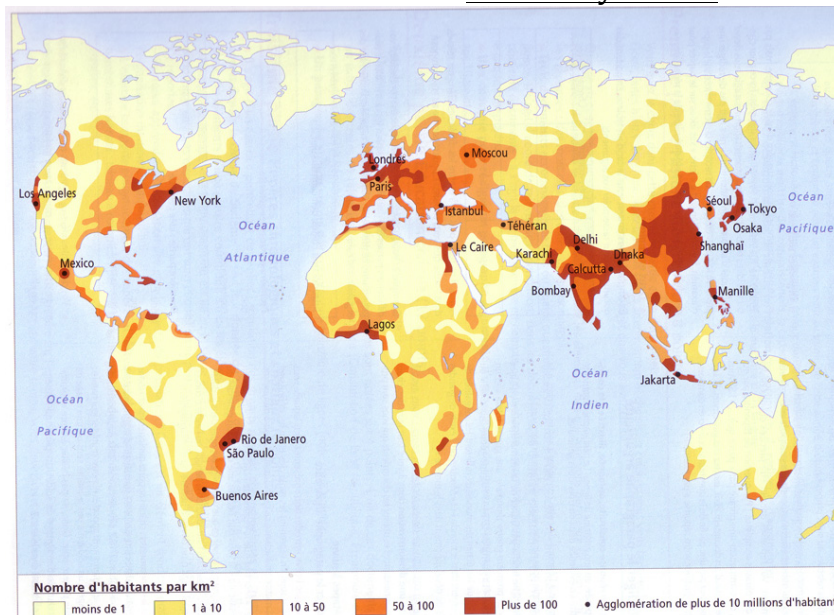
.....

2/ Cite un littoral qui concentre ces **trois activités**.

.....

.....

Carte de synthèse :



3/ Localise par une flèche les villes de Menton et de Nagoya.

4/ A partir des trois cartes précédentes, indique sur la carte et dans la légende les littoraux les plus attractifs selon leur activité.