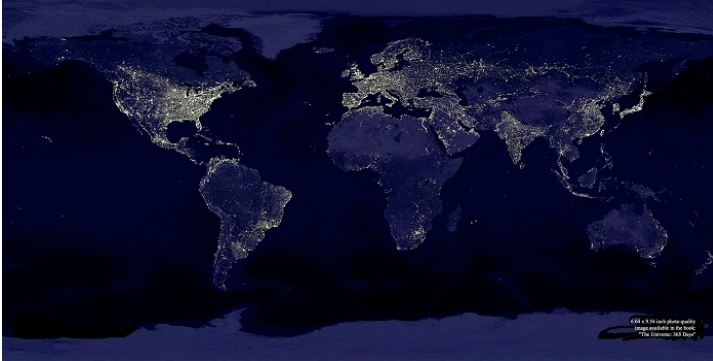


La densité de population dans le monde :

Objectifs :

- Utiliser la densité pour étudier la répartition mondiale de la population.
- Localiser les grands foyers et les vides de peuplement.
- Proposer des explications à cette inégalité.

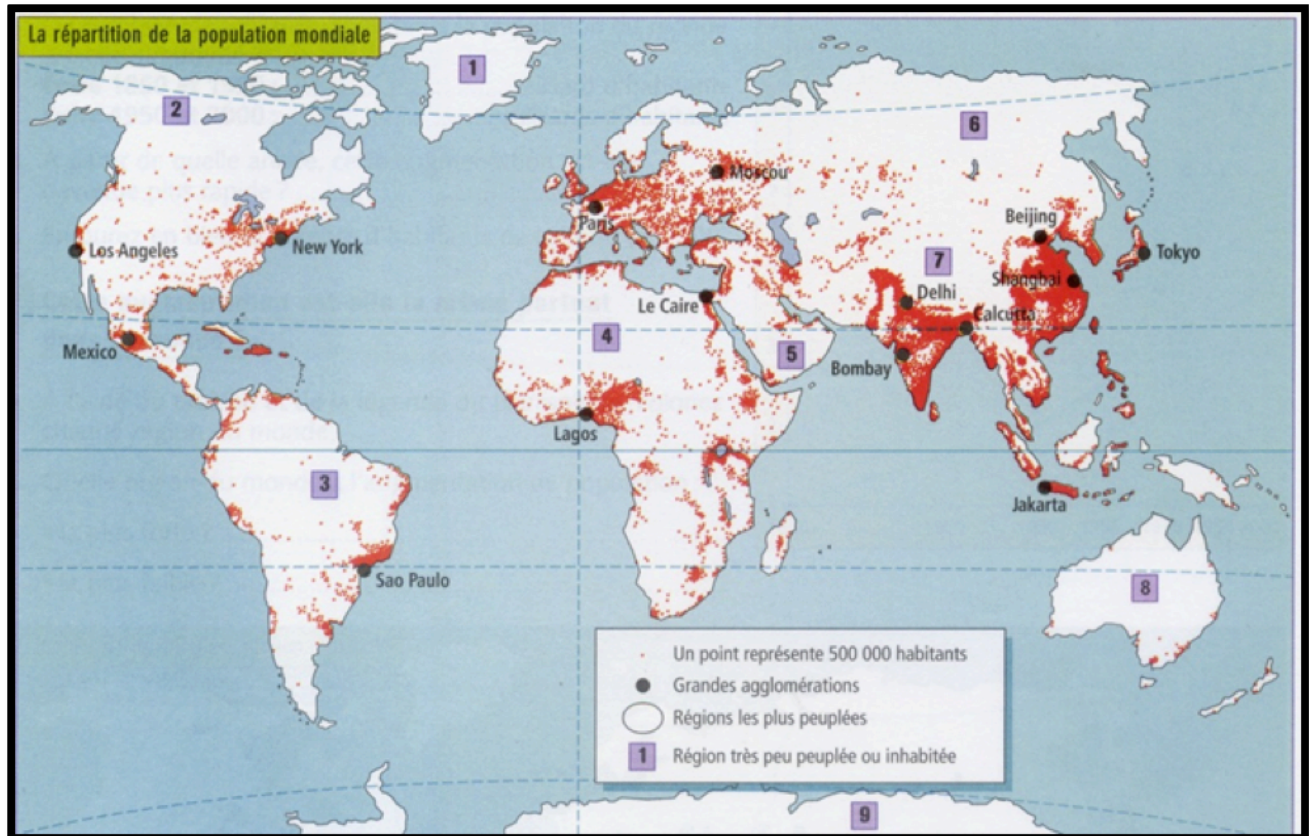
Exercice 1 : Lumière du monde



1/ **Quel est le problème** posé par cette représentation de **la Terre, la nuit** ?

2/ Cette carte permet-elle de **connaître la répartition** de la population dans le monde ?

Exercice 2 : Localiser les foyers et les vides de peuplement :



3/ Sur la carte ci dessus, par quel **figuré** la **population mondiale** est-elle représenté ?

4/ **Entoure les trois régions du monde les plus peuplées en rouge** et indique leur nom à côté.

5/ **Entoure ensuite les autres régions peuplées en bleu** et indique leur nom à coté.

6/ A côté des numéros note sur la carte **localise les régions très peu peuplées** et indique leur nom.

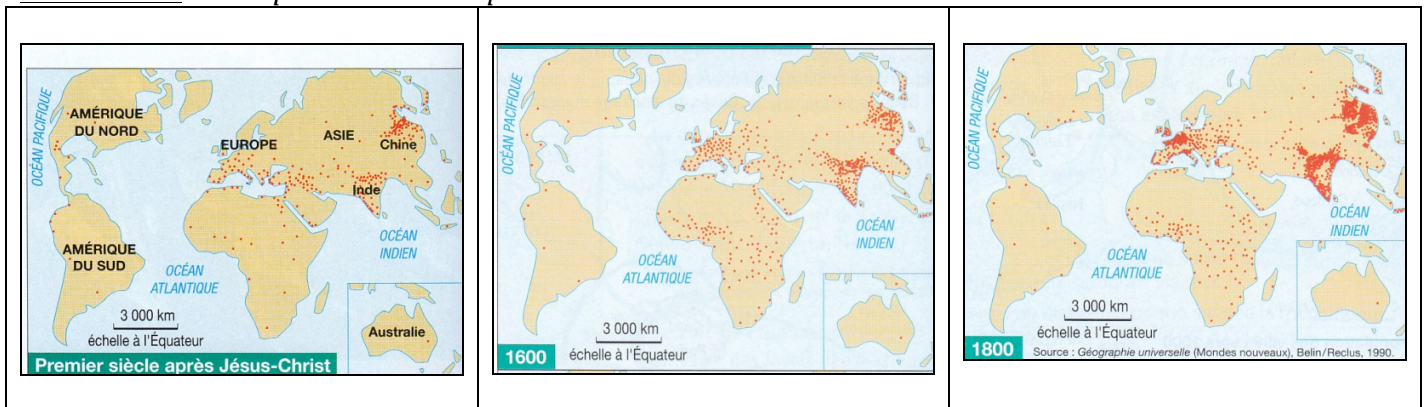
7/ **Connecte toi sur le site youtube** et renseigne « *Milieu pleins, milieux vides dans le monde* » dans l'onglet de recherche. **Regarde la vidéo et corrige ton exercice.**

Exercice 3 : Expliquer cette répartition inégale :

- 8/ A partir de la vidéo « Milieu pleins, milieux vides dans le monde », **complète le tableau ci dessous.**
- Tu dois **trouver des raisons** pour **expliquer les densités élevées** dans les foyers de peuplement.
 - Tu dois **trouver des raisons** pour **expliquer les faibles densités** dans les vides de peuplement.

Foyers de peuplement	Vides de peuplement

Exercice 4 : Une explication historique



9/ Où étaient situés les trois principaux foyers de population, en 100, 1600 et 1800 ?

10/ Comment expliquer cette concentration depuis 2000 ans ?

.....

.....

.....

Bilan : Où sont les Hommes sur la Terre et comment expliquer l'inégalité de ce peuplement ?

.....

.....

.....

.....